

试卷说明

- 1、考试方式：计算机操作，闭卷；
- 2、考试时间为180分钟；
- 3、打开绘图软件后，考生在指定位置建立一个新文件，并以考生考号加考生姓名给文件命名（例如：08001王红.dwg），考生所作试题全部存在该文件中。

试题部分：

一、绘制图幅（15分）

要求：①按以下规定设置图层及线型：

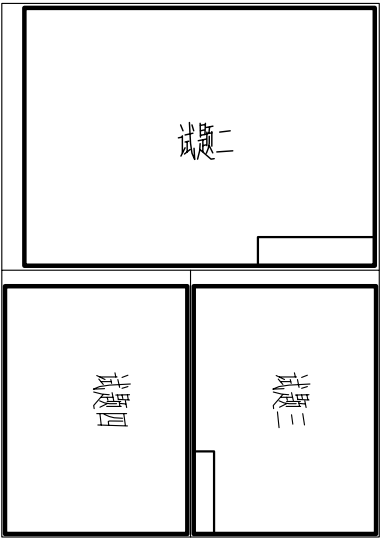
图层名称	颜色（颜色号）	线型	线宽
粗实线	白（7）	Continuous	0.6
中实线	蓝（7）	Continuous	0.3
细实线	绿（3）	Continuous	0.15
虚线	黄（2）	Dashed	0.3
点划线	红（1）	Center	0.15

②按1:1的比例绘制A2幅面（594×420，横放），在A2图纸幅面内用细实线划分出左侧一个A3幅面（420×297），右侧上下两个A4幅面（297×210）如下图所示。

左侧的A3幅面画图框及标题栏，用于绘制试题二。右上方的A4幅面画图框及标题栏，用于绘制试题三，右下方的A4幅面只画图框（不画标题栏），用于绘制试题四。

要求：绘制图框要留出装订边，标题栏格式及尺寸见所给式样。

③设置文字样式，在标题栏内填写文字（不标注标题栏尺寸）。

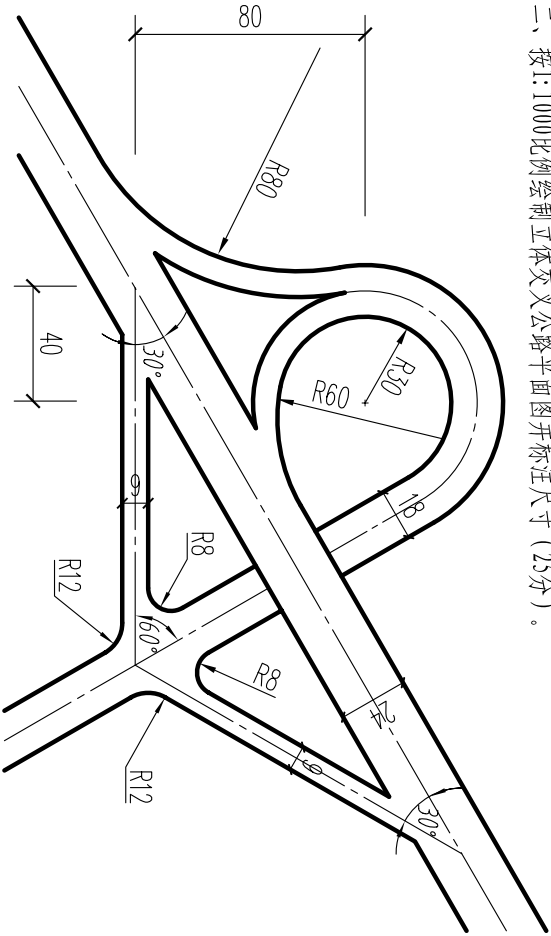


标题栏尺寸及样式

姓名		考号		成绩		比例		图号	
CAD 技能等级考试									
(考生所在单位)									

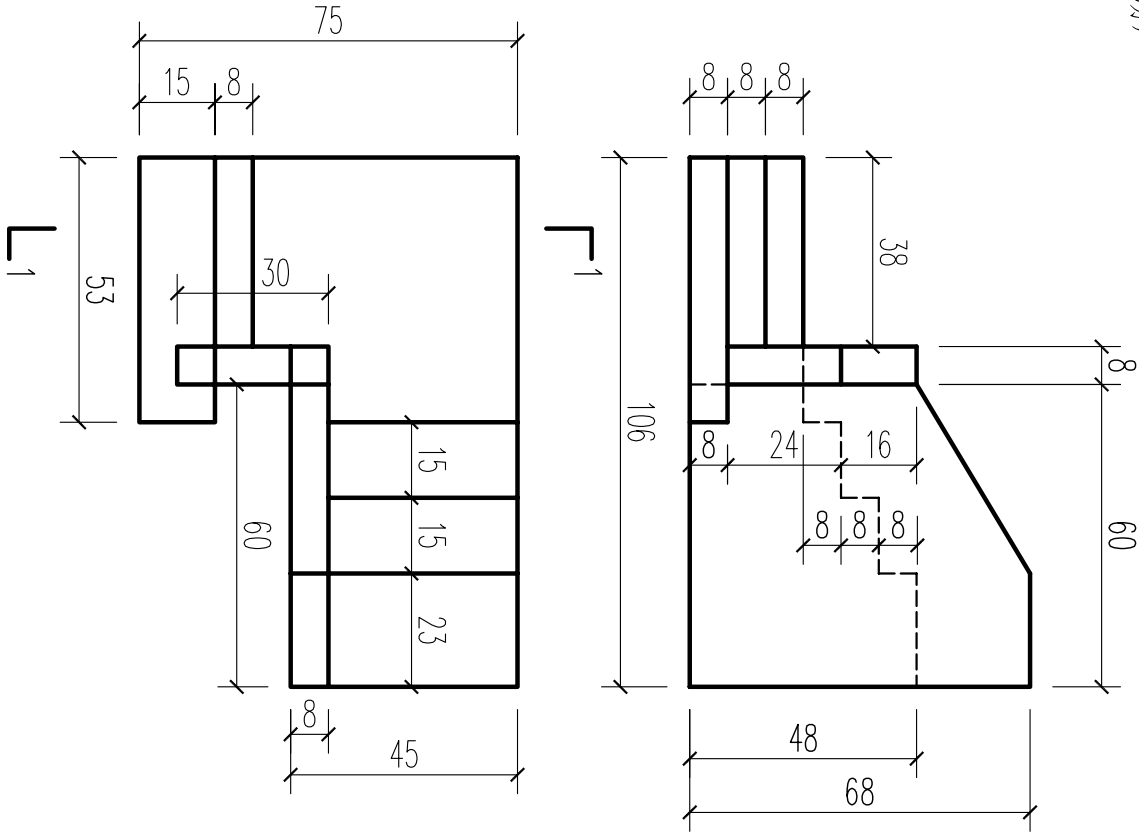
Dimensions: 32, 15, 30, 20, 65, 90, 15, 25, 16, 8, 8

二、按1:1000比例绘制立体交叉公路平面图并标注尺寸（25分）。



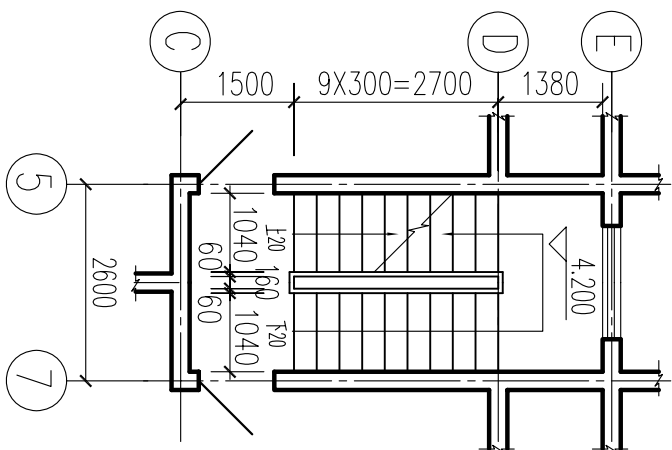
立体交叉公路平面图
(图中单位: m)

三、按1:1的比例抄绘组合体的两视图（不标尺寸），在侧面投影（W面投影）的位置完成1-1剖面图（不标尺寸），断面部分填充混凝土材料符号。（20分）

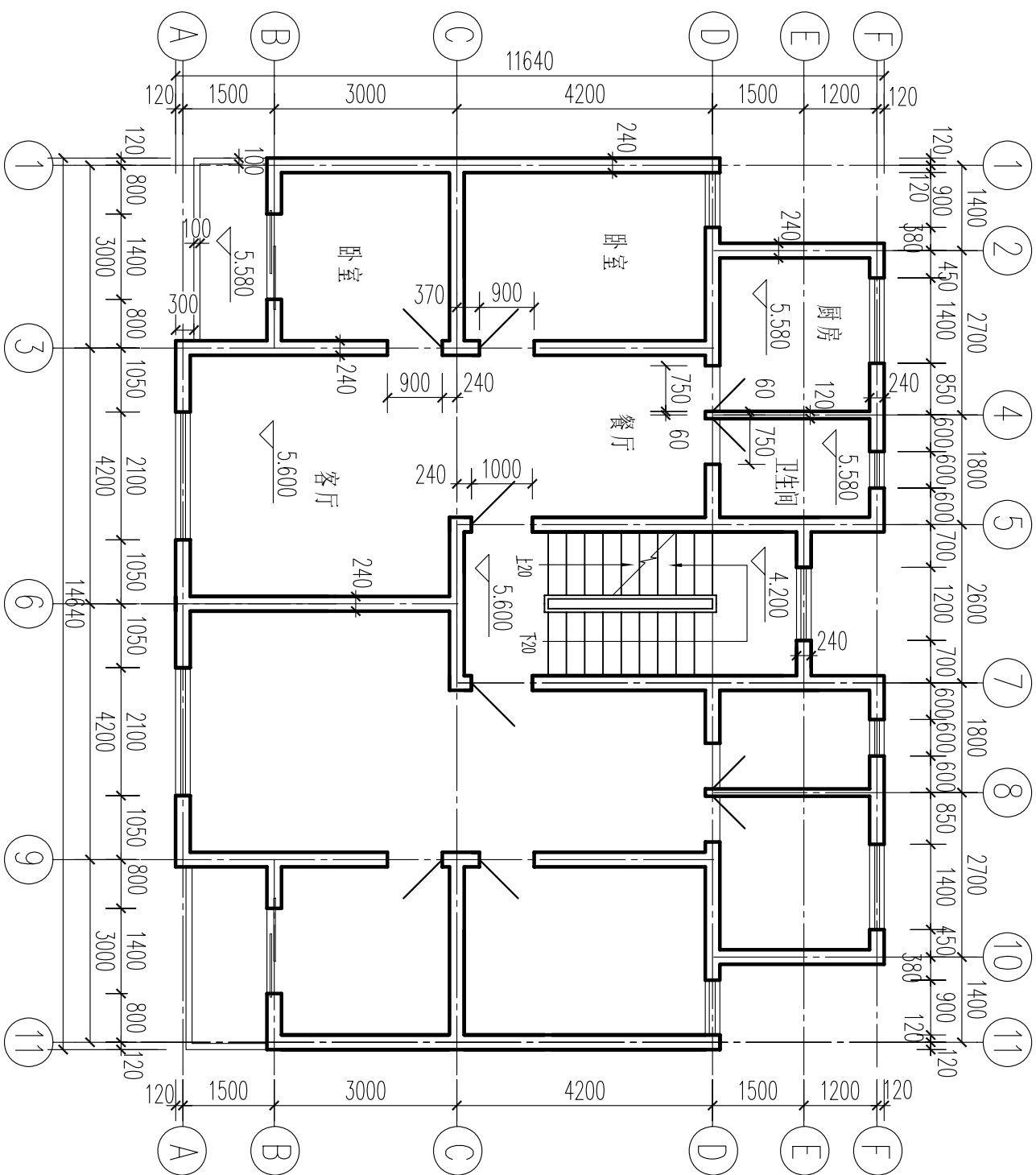


求要

- ①按试题一的要求,将“三层平面图”绘制在指定位置上,其中楼梯的详细尺寸见所给楼梯详图(不绘制楼梯详图);
- ②绘图比例采用1:100;
- ③要求线型、字体、尺寸应符合我国现行建筑制图国家标准。不同的图线应放在不同的图层上,尺寸放在单独的图层上。



楼梯详图



三层平面图
1:100